

تم تحميل وعرض المادة من :




موقع واجباتي
www.wajibati.net

موقع واجباتي منصة تعليمية تساهم بنشر
حل المناهج الدراسية بشكل متميز لترتقي بمجال التعليم
على الإنترنت ويستطيع الطلاب تصفح حلول الكتب مباشرة
لجميع المراحل التعليمية المختلفة

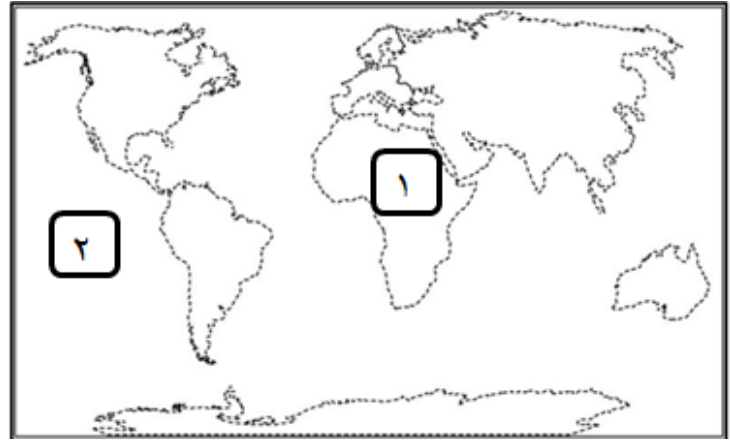
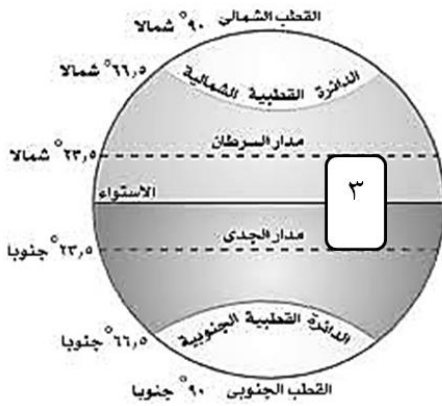
* جميع الحقوق محفوظة للقائمين على الموقع *

رقم السؤال	الدرجة المستحقة		اسم المراجع	اسم المصحح
	رقماً	كتابياً		
الأول				
الثاني				
الثالث				
الرابع			نموذج الإجابة	
الخامس				
السادس				
المجموع				

 وزارة التعليم Ministry of Education		 موقع واجباتي www.wajibati.net	
أسئلة اختبار الفصل الدراسي الأول الدور الأول للعام الدراسي ١٤٤١هـ			
اسم الطالب:			
الصف: الأول المتوسط			
رقم الجلوس:			
المادة: الدراسات الاجتماعية والمواطنة			
اليوم والتاريخ:			
الزمن : ساعتان		هـ / /	
الدرجة الكلية		رقماً	كتابة
		٣٠	

ولدي الطالب وفقك الله استعن بالله ثم ابدأ الإجابة

السؤال الأول: اختر الإجابة الصحيحة مما يلي: (نصف درجة لكل فقرة = ٢٠ درجة).



١- يشير رقم (١) بالخريطة إلى قارة

أ	إفريقيا	ب	أوروبا	ج	أستراليا	د	أمريكا الشمالية
---	---------	---	--------	---	----------	---	-----------------

٢- يشير رقم (٢) بالخريطة إلى المحيط

أ	الهندي	ب	الهادئ	ج	المتجمد الجنوبي	د	المتجمد الشمالي
---	--------	---	--------	---	-----------------	---	-----------------

٣- يشير رقم (٣) بالشكل إلى المنطقة

أ	الحارة	ب	الباردة الشمالية	ج	الباردة الجنوبية	د	المعتدلة الشمالية
---	--------	---	------------------	---	------------------	---	-------------------

٤- خط الطول الرئيس يسمى جرينتش ودرجته

أ	صفر	ب	٩٠	ج	١٨٠	د	٢٧٠
---	-----	---	----	---	-----	---	-----

٥-: تفاعل المجموعات البشرية مع البيئة المحيطة بهم، وما ينتج عنه من أثر ديني أو فكري أو اجتماعي أو عمري أو سياسي في مدة محددة.

أ	العمران	ب	المستقبل	ج	الحضارة	د	التاريخ
---	---------	---	----------	---	---------	---	---------

٦ - تُعد أول موضع في الأرض يشهد البناء منذ بدء الخليقة.

أ	مكة المكرمة	ب	المدينة المنورة	ج	العراق	د	اليمن
---	-------------	---	-----------------	---	--------	---	-------

٧ - أول الشعوب التي سكنت جنوب العراق.

أ	الأكاديون	ب	الكلدانيون	ج	الآشوريون	د	السومريون
---	-----------	---	------------	---	-----------	---	-----------

٨ - عُرفت الكتابة المهيروغليفية في حضارة

أ	اليمن	ب	مصر القديمة	ج	الصين	د	بلاد الرافدين
---	-------	---	-------------	---	-------	---	---------------

٩ - بنى الصينيون جداراً طوله آلاف الأميال لمحاولة منع من غزوهم .

أ	الروم	ب	المغول	ج	الفرس	د	الفراعنة
---	-------	---	--------	---	-------	---	----------

١٠ - الأساس: هو الأساس الأول للحضارة الإسلامية وأصلها الذي اعتمد على القرآن الكريم والسنة النبوية المشرفة.

أ	العلمي	ب	التاريخي	ج	الديني	د	اللغوي
---	--------	---	----------	---	--------	---	--------

١١ - إتخذ الخلفاء الراشدون منهجاً ليختاروا من بينهم خليفة لهم.

أ	الاقتراع	ب	التعيين	ج	الوراثة	د	الشورى
---	----------	---	---------	---	---------	---	--------

١٢ - الذي أنشأ أول نظام للبريد في الإسلام هو ﷺ.

أ	عبد الله بن عمر	ب	عمر بن الخطاب	ج	معاوية بن أبي سفيان	د	عبد الله بن مسعود
---	-----------------	---	---------------	---	---------------------	---	-------------------

١٣ -: رجال يتولون حفظ الأمن ليلاً.

أ	العسس	ب	الشرطة	ج	الوزراء	د	القضاة
---	-------	---	--------	---	---------	---	--------

١٤ - علم يقصد به استنباط الأحكام الشرعية من القرآن الكريم والسنة النبوية المشرفة.

أ	التوحيد	ب	الحديث	ج	التفسير	د	الفقه
---	---------	---	--------	---	---------	---	-------

١٥ - علم: هو العلم الذي يدرس الوقائع وأوقاتها، مثل: غزوات الرسول ﷺ والفتوحات الإسلامية.

أ	اللغة	ب	التاريخ	ج	الفيزياء	د	الترجمة
---	-------	---	---------	---	----------	---	---------

١٦ - وضع المسلمون أسس علم الرياضيات فاخترعوا

أ	المراصد	ب	الأسطرلاب	ج	الدوال	د	الصفير
---	---------	---	-----------	---	--------	---	--------

١٧ - أول من أدخلوا السكر في تحلية بعض الأدوية المرة.

أ	اليونانيون	ب	الفراعنة	ج	المسلمون	د	الصينيون
---	------------	---	----------	---	----------	---	----------

١٨ - من أشهر المساجد التي بناها المسلمون في دمشق.

أ	مسجد عقبة بن نافع	ب	المسجد الأموي	ج	المسجد الأقصى	د	مسجد القبلتين
---	-------------------	---	---------------	---	---------------	---	---------------

١٩ - من أشهر القلاع التي بناها المسلمون قلعة الرض في

أ	الأردن	ب	مصر	ج	سوريا	د	فلسطين
---	--------	---	-----	---	-------	---	--------

٢٠- اعتنى المسلمون بـ لأنها المصدر الأول لغذاء الإنسان.

أ	المعادن	ب	التجارة	ج	الصناعة	د	الزراعة
---	---------	---	---------	---	---------	---	---------

٢١- تُعد صناعة الأدوية من الصناعات

أ	المعدنية	ب	الزجاجية	ج	الكيميائية	د	الإلكترونية
---	----------	---	----------	---	------------	---	-------------

٢٢- تنتمي مجموعتنا الشمسية لجرة

أ	زهرة الشمس	ب	درب التبانة	ج	العين	د	هايل
---	------------	---	-------------	---	-------	---	------

٢٣- عدد كواكب المجموعة الشمسية كواكب.

أ	ستة	ب	سبعة	ج	ثمانية	د	تسعة
---	-----	---	------	---	--------	---	------

٢٤- ترتيب الأرض من حيث القرب من الشمس:

أ	الأول	ب	الثاني	ج	الثالث	د	الرابع
---	-------	---	--------	---	--------	---	--------

٢٥- أكبر كواكب المجموعة الشمسية حجماً.

أ	عطارد	ب	نبتون	ج	المريخ	د	المشتري
---	-------	---	-------	---	--------	---	---------

٢٦- أول رائد فضاء عربي مسلم صاحب السمو الملكي الأمير ابن سلمان بن عبدالعزيز.

أ	تركي	ب	بندر	ج	سلطان	د	أحمد
---	------	---	------	---	-------	---	------

٢٧- : الخط الوهمي المستقيم الواصل بين القطبين والمار بمركز الأرض.

أ	القطر القطبي	ب	خط الاستواء	ج	خط جرينتش	د	القطر الاستوائي
---	--------------	---	-------------	---	-----------	---	-----------------

٢٨- عدد خطوط الطول على شكل الكرة الأرضية خط.

أ	٩٠	ب	١٨٠	ج	٢٧٠	د	٣٦٠
---	----	---	-----	---	-----	---	-----

٢٩- : دوائر وهمية ، عرضية تُرسم على أنموذج الكرة الأرضية والخرائط.

أ	دوائر العرض	ب	خطوط الطول	ج	القطر الاستوائي	د	القطر القطبي
---	-------------	---	------------	---	-----------------	---	--------------

٣٠- عدد المناطق الزمنية على سطح الأرض منطقة زمنية.

أ	١٠	ب	١٥	ج	٢٤	د	٣٠
---	----	---	----	---	----	---	----

٣١- يتقدم الوقت في الأماكن التي تقع خط جرينتش.

أ	شمال	ب	جنوب	ج	شرق	د	غرب
---	------	---	------	---	-----	---	-----

٣٢- في يوم ٢١ يونيو تكون الشمس عمودية على مدار السرطان ويكون في نصف الكرة الشمالي فصل

أ	الصيف	ب	الربيع	ج	الشتاء	د	الخريف
---	-------	---	--------	---	--------	---	--------

٣٣- : تبادل الحديث بين طرفين أو أكثر في قضية محددة ؛ من أجل إثراء المعرفة والأفكار ، ويغلب عليه الهدوء والبعد عن التعصب والخصومة.

أ	النشاط	ب	الاختبار	ج	التخطيط	د	الحوار
---	--------	---	----------	---	---------	---	--------

٣٤ - يغطي الماء نسبة % من مساحة سطح الأرض.

أ	٢٩	ب	٥٩	ج	٧١	د	٨١
---	----	---	----	---	----	---	----

٣٥ - : مسطح مائي مالخ واسع عميق، يحيط بكتل اليابسة.

أ	البحيرة	ب	الخليج	ج	النهر	د	البحر
---	---------	---	--------	---	-------	---	-------

٣٦ - : هو مرحلة تحضيرية للعمل وخطوة ممنهجة ومنظمة لتحديد المهام والأعمال ومواعيد القيام بها وكيفية إنجازها.

أ	الحوار	ب	التخطيط	ج	النشاط	د	تنظيم الوقت
---	--------	---	---------	---	--------	---	-------------

٣٧ - أصغر قارات العالم مساحة

أ	آسيا	ب	أستراليا	ج	أمريكا الشمالية	د	أوروبا
---	------	---	----------	---	-----------------	---	--------

٣٨ - من عبارات الحوار الغير مناسبة :

أ	أظن أن	ب	هل توافقني؟	ج	يبدو لي	د	مقتنع تماماً بكلامي
---	--------	---	-------------	---	---------	---	---------------------

٣٩ - الأسلوب : الذي يقوم على الأسئلة.

أ	الاستنتاجي	ب	الوصفي	ج	الاستفهامي	د	القصصي
---	------------	---	--------	---	------------	---	--------

٤٠ - الحوار : الذي يجري بين أبناء الوطن لمناقشة القضايا التي تفيد الوطن من خلال المؤسسة المختصة.

أ	التربوي	ب	الوطني	ج	التلقائي	د	الرياضي
---	---------	---	--------	---	----------	---	---------

٢٠

السؤال الثاني: ضع كلمة (صح) أمام العبارة الصحيحة ، أو كلمة (خطأ) أمام العبارة الخاطئة فيما يلي:

م	العبارة	صحيحة	خاطئة
٤١	شكل الأرض كامل الاستدارة.	أ	ب خطأ
٤٢	التخطيط يساعد على النجاح والتفوق.	أ	ب صح
٤٣	أخذ وقت للراحة يسهم في تجديد النشاط.	أ	ب صح
٤٤	البدء بالأعمال غير المهمة يعد من الأولويات.	أ	ب خطأ
٤٥	الاحترام المتبادل يساعد على نجاح الحوار.	أ	ب صح
٤٦	أنشئ مركز الملك عبد العزيز للحوار الوطني عام ١٤٢٤ هـ.	أ	ب صح
٤٧	يُعد علم الحديث المصدر الأول للتشريع الإسلامي.	أ	ب خطأ
٤٨	ارتبط الفن الإسلامي بالدين ارتباطاً وثيقاً.	أ	ب صح

(نصف درجة لكل فقرة = ٤ درجات).

٤

السؤال الثالث: أجب عن الأسئلة التالية:

(نصف درجة لكل فقرة ، ويكتفى بإجابة واحدة وتقبل أي إجابة تحتل نفس المعنى = ٣ درجات).

أ- ما العوامل التي تقوم عليها الحضارات؟

الموقع والتضاريس والمناخ.

ب- فسر إنشاء الخليفة عمر بن الخطاب رضي الله عنه الدواوين.

لاتساع رقعة أراضي البلاد الإسلامية وكثرة مواردها ولضبط أحوالها.

ج - علل بناء المسلمون المدن في الأماكن التي فتحوها.

لتكون عواصم للدول الإسلامية - لأغراض عسكرية أو اقتصادية أو دينية.

د- كيف أسهم التجار المسلمين في نشر الإسلام؟

بحسن معاملتهم وأمانتهم وتسامحهم وتمسكهم بأحكام الدين الإسلامي.

هـ- وضح الخصائص المشتركة لكواكب المجموعة الشمسية.

تستمد من الشمس الحرارة والضوء - تدور حول محورها - جميعها ذات شكل كروي - تدور حول الشمس.

و - حدد فوائد خطوط الطول ودوائر العرض.

تحديد المواقع على سطح الكرة الأرضية - معرفة الزمن في مختلف جهات الأرض - معرفة المناطق الحرارية على سطح الأرض.

السؤال الرابع: أجب عن الأسئلة التالية:

(نصف درجة لكل فقرة ، ويكتفى بإجابة واحدة وتقبل أي إجابة تحتل نفس المعنى = ٣ درجات).

أ- لماذا لا يشعر سكان الأرض بحركتها؟

أنها تتحرك حركة منتظمة ؛ وفق نظام محكم دقيق من صنع الله سبحانه وتعالى - حجم الأرض كبير - تدور في الفضاء بما فيها مع غلافها الجوي - وجود الجاذبية الأرضية.

ب- ما النتائج المترتبة على حركة الأرض حول محورها؟

تعاقب الليل والنهار - اختلاف الزمن - انحراف الرياح والتيارات المائية والأجسام المتحركة على سطح الأرض.

ج - اذكر فوائد الحوار.

فهم الآراء الأخرى ومعرفتها - معرفة أشياء جديدة - تقديم الرأي والاستماع إلى رأي آخر - الوعي بالموضوع المطروح - معرفة الحقيقة - تعديل الأفكار غير الصحيحة وتقويمها - إظهار الجانب المشرق للوطن وأبنائه.

د- ما آداب الحوار؟

العلم - التدرج والبدء بالأهم - الصدق والدليل - الموضوعية - الوضوح - التزام أخلاق الحوار.

هـ - ما البرامج التي يقدمها مركز الملك عبدالعزيز للحوار الوطني؟

برنامج ببادر - برنامج تلاحم - برنامج جسور - برنامج تمكين - برنامج سفير - مسابقة حواركم.

و - فسر انتظام حدوث الفصول الأربعة مرتبة كل عام.

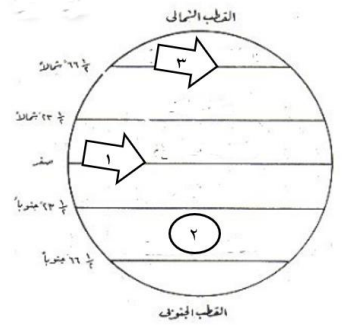
دورة الأرض حول الشمس كل ثلاثمائة وخمسة وستين يوماً وربع يوم - ميل المحور القطبي بمقدار ٢٣.٥ درجة - ثبات ميل المحور القطبي في أثناء الدوران باتجاه واحد.

اسم المراجعة	اسم المصححة	الدرجة المستحقة		رقم السؤال
		كتابة	رقماً	
				الأول
				الثاني
				الثالث
				الرابع
				الخامس
				السادس
				المجموع

 <p>وزارة التعليم Ministry of Education</p> <p>أسئلة اختبار الفصل الدراسي الأول الدور: الأول للعام الدراسي ١٤٤١ هـ</p>		 <p>موقع واجباتي www.wajibati.net</p>	
اسم الطالبة:		الصف: أولى متوسط	
رقم الجلوس:		المادة: الدراسات الاجتماعية والمواطنة	
اليوم والتاريخ:		الزمن: ساعتان	
الدرجة الكلية	رقماً	كتابة	
٣٠	٣٠		

ابني الطالبة وفقك الله استعني بالله ثم ابدأي الإجابة

السؤال الأول: اختاري الإجابة الصحيحة مما يلي:



١- يشير السهم رقم ١ إلى دائرة

أ	الجدري	ب	السرطان	ج	الاستواء	د	القطبية الجنوبي
---	--------	---	---------	---	----------	---	-----------------

٢ - يشير السهم رقم ٢ إلى دائرة

أ	الجدري	ب	السرطان	ج	الاستواء	د	القطبية الجنوبي
---	--------	---	---------	---	----------	---	-----------------

٣ - أقرب الكواكب لنجم الشمس كوكب:

أ	عطارد	ب	الأرض	ج	الزهرة	د	المريخ
---	-------	---	-------	---	--------	---	--------

٤ - شعب أول الشعوب التي سكنت جنوب العراق وأشهر مدّهم: أور، ونيبور

أ	العموريون	ب	الآشوريون	ج	السومريون	د	الكلدانيون
---	-----------	---	-----------	---	-----------	---	------------

٥ - من أشهر ملوك الكلدانيون الذي بنى إمبراطورية الكلدانيين التي امتدت إلى سوريا ولبنان وفلسطين.

أ	حمورابي	ب	سامو آي	ج	نبوخذ نصر	د	أوزوريس
---	---------	---	---------	---	-----------	---	---------

٦ - ظهرت الحضارة الصينية على ضفاف

أ	نهر الفرات	ب	نهر دجلة	ج	نهر النيل	د	النهر الأصفر
---	------------	---	----------	---	-----------	---	--------------

٧ - تعني المعاونة في تحمل أعباء الحكم.

أ	الخلافة	ب	الوزارة	ج	البيعة	د	الدواوين
---	---------	---	---------	---	--------	---	----------

٨- هو تعيين القضاة للفصل بين الناس في الخصومات بموجب القرآن الكريم والسنة النبوية.

أ	الأمانة	ب	القضاء	ج	الدواوين	د	الوزارة
---	---------	---	--------	---	----------	---	---------

٩ - تحول الجيش في عهد الخليفة..... رضي الله عنه إلى جيش نظامي أنشئ له ديوان خاص به.

أ	أبو بكر الصديق	ب	عمر بن الخطاب	ج	عثمان بن عفان	د	علي بن أبي طالب
---	----------------	---	---------------	---	---------------	---	-----------------

١٠ - هم رجال يتولون حفظ الأمن ليلاً.

أ	الجند	ب	الجيش	ج	العسس	د	الشرطة
---	-------	---	-------	---	-------	---	--------

١١ - هي نقل العلوم من لغتها الأصلية إلى اللغة العربية.

أ	التفسير	ب	الترجمة	ج	الكيمياء	د	الفقه
---	---------	---	---------	---	----------	---	-------

١٢ - علم هو العلم الذي يدرس ذكر الوقائع وأوقاتها.

أ	الجغرافيا	ب	الترجمة	ج	الفلك	د	التاريخ
---	-----------	---	---------	---	-------	---	---------

١٣ - أشهر المؤلفات في علم كتاب (الجامع الصحيح).

أ	الحديث	ب	التفسير	ج	اللغة	د	التاريخ
---	--------	---	---------	---	-------	---	---------

١٤ - تعد صناعة الأدوية من الصناعات

أ	الغذائية	ب	الكيميائية	ج	الزجاجية والخزفية	د	المنسوجات
---	----------	---	------------	---	-------------------	---	-----------

١٥ - أنشئت الدواوين في عهد الخليفة: رضي الله عنه.

أ	عمر بن الخطاب	ب	عثمان بن عفان	ج	علي بن أبي طالب	د	أبو بكر الصديق
---	---------------	---	---------------	---	-----------------	---	----------------

١٦ - هو: كل ما يحيط بنا من نجوم، ومجرات، وكائنات حية.

أ	الكون	ب	المجموعة الشمسية	ج	درب التبانة	د	الكواكب
---	-------	---	------------------	---	-------------	---	---------

١٧ - خطوط الطول تفيد في:

أ	تحديد الزمن	ب	تحديد الأقاليم المناخية	ج	تحديد خط الاستواء	د	تحديد المناطق الحرارية
---	-------------	---	-------------------------	---	-------------------	---	------------------------

١٨ - مدار الجدي يقع عند درجة جنوباً.

أ	٢٣,٥°	ب	٥٢٣,٥°	ج	٦٦,٥°	د	٩٠°
---	-------	---	--------	---	-------	---	-----

١٩ - يحدث فصل الربيع الشمالي في يوم

أ	٢١ مارس	ب	٢٢ ديسمبر	ج	٢١ يونيو	د	٢٣ سبتمبر
---	---------	---	-----------	---	----------	---	-----------

٢٠ - ترتيب الأرض من حيث القرب من الشمس:

أ	الأول	ب	الثاني	ج	الثالث	د	الرابع
---	-------	---	--------	---	--------	---	--------

٢١ - يحدث الصيف في شمال الكرة الأرضية عندما تتعامد أشعة الشمس على:

أ	مدار السرطان	ب	مدار الجدي	ج	خط الاستواء	د	الدائرة القطبية الجنوبية
---	--------------	---	------------	---	-------------	---	--------------------------

٢٢ - مرحلة تحضيرية للعمل، وخطوة ممنهجة ومنظمة لتحديد المهام والأعمال.

أ	التخطيط	ب	الأهداف	ج	المهام	د	الحضارة
---	---------	---	---------	---	--------	---	---------

٢٣ - يجري بين الناس في الحياة اليومية مثل النقاشات العائلية والاجتماعية.

أ	الحوار التلقائي	ب	الحوار الرياضي	ج	الحوار التربوي	د	الحوار الوطني
---	-----------------	---	----------------	---	----------------	---	---------------

٢٤ - قُسمت دول العالم إلى منطقة زمنية.

أ	أربع وعشرين	ب	خمس وعشرين	ج	ست وعشرين	د	سبع وعشرين
٢٥ -: أجسام كروية صلبة معتمة، تستمد من الشمس الحرارة والضوء.							
أ	الكون	ب	الشمس	ج	المذنبات	د	الكواكب
٢٦ - كوكب الأرض وسطاً بين كواكب المجموعة الشمسية: حيث يمثل المرتبة حجماً.							
أ	الثالثة	ب	الرابعة	ج	الخامسة	د	السادسة
٢٧ - من إنجازات العلماء المسلمين في علم الرياضيات:							
أ	استخدام نظام الترقيم	ب	تنقية المعادن	ج	اختراع الاسطرلاب	د	إدخال السكر في بعض الأدوية
٢٨ - مهمته نقل الرسائل بين الخليفة وولاة الأقاليم، حيث يستطيع الخليفة وهو في العاصمة أن يطلع على أخبار الدولة.							
أ	الدواوين	ب	القضاة	ج	البريد	د	بيت المال
٢٩ - كان شعب العدو الأول الشرس للصينيين.							
أ	الآشوريون	ب	الكلدانيون	ج	الفراعنة	د	المغول
٣٠ - أنشئ..... لجمع واردات الدولة، وتنظيمها، وتحقيق التوازن بين الموارد والمصروفات.							
أ	الدواوين	ب	الخزاج	ج	بيت المال	د	القضاء
٣١ - هو الخط الوهمي المستقيم الواصل بين أبعد نقطتين على خط الاستواء والمار بمركز الأرض.							
أ	القطر الاستوائي	ب	القطر القطبي	ج	مدار السرطان	د	دائرة الاستواء
٣٢ - خطوط وهمية طولية، تُرسم على شكل الكرة الأرضية من القطب الشمالي إلى القطب الجنوبي.							
أ	القطر الاستوائي	ب	القطر القطبي	ج	خطوط الطول	د	دوائر العرض
٣٣ - يعتبر المحيط أكبر المحيطات مساحة.							
أ	المحيط الأطلسي	ب	المحيط الهادي	ج	المحيط المتجمد الشمالي	د	المحيط الهندي
٣٤ - تشغل اليابسة (.....) من مساحة سطح الأرض.							
أ	٢٩%	ب	٣٩%	ج	٤٩%	د	٩٥%
٣٥ - تفاعل المجموعات البشرية مع البيئة المحيطة بهم، وما ينتج عنه من أثر ديني أو فكري أو اجتماعي أو عمراني في مدة محددة							
أ	التاريخ	ب	الحضارة	ج	علم اللغة	د	الجغرافيا
٣٦ - تقع بين دائرتي عرض (٢٣,٥) شمالاً وجنوباً، ويمر وسطها خط الاستواء.							
أ	المنطقتان المعتدلتان	ب	المنطقتان الباردتان	ج	المناطق الزمنية	د	المنطقة الحارة
٣٧ - عندما يحل فصل الخريف في نصف الأرض الشمالي، يقابله فصل في النصف الأرض الجنوبي.							
أ	الربيع	ب	الصيف	ج	الشتاء	د	الخريف
٣٨ - يقوم أسلوب الحوار على سرد القصص، وضرب الأمثال.							
أ	الوصفي	ب	الاستنتاجي	ج	الاستفهامي	د	التلقائي
٣٩ - عدد كواكب المجموعة الشمسية كواكب.							
أ	سبعة	ب	ثمانية	ج	تسعة	د	عشرة
٤٠ - من الدواوين التي استحدثت في عهد الدولة الأموية: ديوان							

أ	الجنند	ب	الخارج	ج	الزمام	د	البريد
---	--------	---	--------	---	--------	---	--------

نصف درجة لكل فقرة
٢٠

السؤال الثاني: ضعي كلمة (صح) أمام العبارة الصحيحة , أو كلمة (خطأ) أمام العبارة الخاطئة فيما يلي:

م	العبارة	صحيحة	خاطئة
٤١	أهبط الله آدم وحواء عليهما السلام في المدينة المنورة.	أ	ب
٤٢	تميزت عمارة المساجد في عهد النبي عليه الصلاة والسلام والخلفاء الراشدين ببساطة البناء.	أ	ب
٤٣	من أركان الحوار: أطراف الحوار.	أ	ب
٤٤	التخطيط يزيد من التوتر والقلق.	أ	ب
٤٥	تعتبر أستراليا أصغر القارات مساحة.	أ	ب
٤٦	حركات الأرض أثنان وكلتاها تدور عكس اتجاه عقارب الساعة.	أ	ب
٤٧	عدد دوائر العرض على شكل الأرض هو (١٨٠) دائرة (٩٠): دائرة شمالاً، و(٩٠) دائرة جنوباً.	أ	ب
٤٨	يعتمد نجاح التخطيط للدراسة على معرفة قيمة الوقت، وإدراك أهميته، وعلى الجدبة في تطبيق الخطة.	أ	ب

نصف درجة لكل فقرة
٤

السؤال الثالث:

١- عللي لما يأتي:

أ- إعتناء المسلمين ببناء القلاع والحصون. (نصف درجة)

. للدفاع على أراضي المسلمين

ب- تعد اللغة العربية أثرى اللغات، وأكملها في المعاني والألفاظ. (نصف درجة)

لكثرة مفرداتها وغنى تعبيراتها

ج - لماذا لا يشعر سكان الأرض بحركتها؟ (نصف درجة)

لأنها تدور بببطئ - وتدور بصورة منتظمة - ولوجود الجاذبية الأرضية - لأنها تدور بما فيها من أغلفة

د- وضحي فوائد خطوط الطول، ودوائر العرض. (نصف درجة)

تحديد المناطق - تحديد الزمن - معرفة المناطق الحرارية في العالم

٢- ما المصطلح الجغرافي لكل من ؟

أ- ما على سطح الأرض من مرتفعات ومنخفضات. (... سطح الأرض...) (نصف درجة)

ب - نجم كروي غازي ملتهب يشع حرارة وضوءاً، ويدور حوله عدد من الكواكب. (... الشمس...) (نصف درجة)

٣
٣

السؤال الرابع:

١- عددي لما يلي (أثنين فقط):

- أ- خصائص كواكب المجموعة الشمسية. (درجة فقط)
تستمد الحرارة والضوء من الشمس - جميعها كروية الشكل - تدور حول الشمس - ...
ب- صناعات عرفتتها الحضارة المصرية القديمة. (درجة فقط)
ورق البردي - التحنيط - المنسوجات - الفخار والزجاج
ج- فوائد التخطيط. (درجة فقط)
النجاح والتفوق - التعرف على مايجب علينا فعله من أعمال ومقى ينبغي ان نفعلها - بناء شخصيتنا الوطنية الناجحة - الاستمتاع بالوقت دون الشعور بالذنب .

٣
٣

انتهت الأسئلة ,,,,, وفلك الله.
معلمة المادة/ نسرين الصغير